

ตัวอย่างแบบทดสอบเข้า ป. 1 โรงเรียนสาธิต เล่มที่ 2  
(ชุดคำถามพร้อมเฉลย สำหรับครูผู้อ่านใจหาย)



**ห้ามจำหน่าย**




Download ได้ฟรี! ที่ [satit.club](http://satit.club)

วันนี้เป็นวันเสาร์ซึ่งเป็นวันสุดท้ายของปี พุ้งนี่ก็เป็นวันขึ้นปีใหม่แล้ว คุณพ่อ คุณแม่พาฉันไปซื้อของที่ห้างสรรพสินค้า เพื่อนำมาจัดงานเลี้ยงปีใหม่ที่บ้าน พอไปถึงคุณพ่อหาที่จอดรถอยู่นานกว่าจะได้ที่จอดเพราะวันนี้คนมาซื้อของเยอะมาก ๆ หลังจากนั้นพวกเรา ก็เข้าไปซื้ออาหาร เครื่องดื่ม สิ่งประดับตกแต่งงานเลี้ยงปีใหม่ และคุณแม่ซื้อเสื้อผ้าให้ฉันตั้ง 7 ตัว 7 สี ครบตามสีประจำวันพอดี คุณแม่บอกว่าช่วงนี้ให้ฉันใส่เสื้อผ้าตรงกับสีประจำวันจะได้สวยสดใสต้อนรับปีใหม่ ก่อนกลับบ้านคุณแม่พาฉันไปเข้าห้องน้ำก่อน จากเรื่องราวดังกล่าวให้ตอบคำถามข้อที่ 1-3

### 1. ตอนที่คุณพ่อหาที่จอดรถ ต้องมองหาสัญลักษณ์ใด

ก.	[ข.]	ค.
		

### 2. ตอนที่คุณแม่พาฉันเข้าห้องน้ำ ต้องมองหาสัญลักษณ์ใด

ก.	ข.	[ค.]
		

### 3. ในวันปีใหม่นี้ฉันต้องใส่เสื้อผ้าอะไร

ก.	[ข.]	ค.
สีม่วง	สีแดง	สีเหลือง




4. หมู่มัจฉา แหวกว่ายในสายธารา เล็กใหญ่ว่ายไปมา หนูๆ จำช่วยบอกที “มัจฉา” หมายถึงอะไร

ก.	[ข.]	ค.
		

5. จากเรื่องทีอ่านในข้อ 4. คำว่า “สายธารา” หมายถึงสิ่งใด

[ก.]	ข.	ค.
สายน้ำ	สายบัว	สายใย

6. ชื่อฉันอยู่บนฟ้า ส่วนกายอยู่ในน้ำ ฉันคือใคร

ก.	ข.	[ค.]
		

7. ข้อใดไม่เกี่ยวข้องกับเหตุการณ์ที่เกิดขึ้นในภาพที่แรก

	ก.	[ข.]	ค.
			



8. จากความสัมพันธ์ของภาพ ข้อใดคือภาพที่หายไป

[ก.]



ข.



ค.



9. ข้อใดไม่เกี่ยวข้องกับประเพณีสงกรานต์

ก.



ข.



[ค.]



10. สัตว์ชนิดใดที่เป็นสัตว์กินทั้งพืชและสัตว์เป็นอาหาร

ก.



ข.



[ค.]



11. น่องนิตข้ามถนนที่ใดจะปลอดภัยมากที่สุด

ก. ทางม้าลาย	[ข.] สะพานลอย	ค. ไฟแดง
-----------------	------------------	-------------

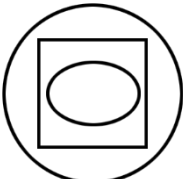
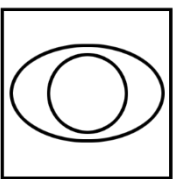
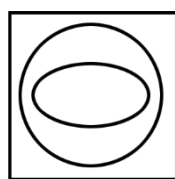
12. ข้อใดเรียงลำดับสัญญาณไฟจราจรได้ถูกต้อง

[ก.] แดง เขียว เหลือง	ข. เหลือง เขียว แดง	ค. เขียว แดง เหลือง
--------------------------	------------------------	------------------------

13. น้ำเต้าหู้ทำมาจากอะไร

ก. ถั่วเขียว	[ข.] ถั่วเหลือง	ค. ถั่วแดง
-----------------	--------------------	---------------

14. วงกลมอยู่ในสี่เหลี่ยม แต่อยู่นอกวงรี คือข้อใด

ก. 	ข. 	[ค.] 
---	---	---

15. ข้อใดแสดงถึงความรับผิดชอบต่อหน้าที่ของตนเอง

ก. แบ่งขนมที่ซื้อ มา ให้เพื่อน	ข. ดำช่วยเพื่อนเก็บ ขยะไปทิ้ง	[ค.] เขี้ยวทำการบ้าน ก่อนเล่นกับเพื่อน
--------------------------------------	-------------------------------------	--

16. เราไหว้พระสวดมนต์ เพื่ออะไร

ก. เพื่อขอพรให้เรา เรียนเก่ง	[ข.] เพื่อให้จิตใจสงบ มีสมาธิ	ค. เพื่อทำตาม ประเพณี
------------------------------------	-------------------------------------	-----------------------------





17. ถ้าเราวิ่งชนเพื่อนจนล้มโดยที่เราไม่ตั้งใจ เราควรกล่าวคำใด

ก. ไม่เป็นไรใช่ไหม	[ข.] เราขอโทษนะ	ค. ไม่ต้องกล่าวอะไร
-----------------------	--------------------	------------------------

18. ถ้าเพื่อนแบ่งขนมให้เรา เราควรพูดคำว่าอะไร


[ก.] ขอบใจจ่ะ	ข. อร่อยดี	ค. มีอีกมั๊ย
------------------	---------------	-----------------

19. ข้อใดเป็นสาเหตุที่ทำให้เกิดขึ้นในภาพที่แรก

	ก. 	ข. 	[ค.] 
---	---	--	---

20. จากข้อที่ 19 เราต้องไปพบใคร

ก. สัตวแพทย์	ข. จักษุแพทย์	[ค.] ทันตแพทย์
-----------------	------------------	-------------------

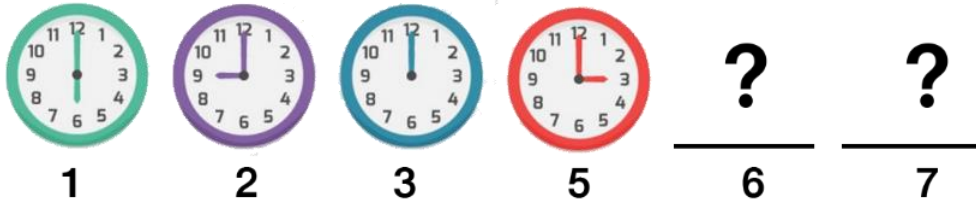


21. ข้อใดเรียงลำดับเหตุการณ์วงจรชีวิตของผีเสื้อได้ถูกต้อง

ก. 1-3-4-2	ข. 3-4-2-1	[ค.] 3-2-4-1
---------------	---------------	-----------------

22. จากภาพในข้อที่ 19 หมายเลข 4 เรียกว่าอะไร

ก. ไข่	[ข.] ดักแด้	ค. ตัวหนอน
-----------	----------------	---------------



23. ถ้าภาพแรกเป็นเวลา 6.00 น. ข้อใดคือเวลาในลำดับที่ 6

ก. เวลาเคารพธงชาติ ในตอนเช้า	ข. เวลาพักเที่ยง	[ค.] เวลาเคารพธงชาติ ในตอนเย็น
------------------------------------	---------------------	--------------------------------------

24. จากภาพในข้อที่ 23 เวลาในลำดับที่ 7 เราควรทำอะไร

ก. ตื่นนอน	ข. เรียนหนังสือ	[ค.] เข้านอน
---------------	--------------------	-----------------

25. จากภาพในข้อที่ 23 โรงเรียนเข้าเวลา 8.00 น. แต่เราไป  
สาย 1 ชั่วโมง เราจะไปถึงโรงเรียนในเวลาลำดับที่เท่าไร

ก. ลำดับที่ 1	[ข.] ลำดับที่ 2	ค. ลำดับที่ 3
------------------	--------------------	------------------



กz ขy กx ?w ฉ?

26. ตัวอักษรที่หายไปคือข้อใด

ก.	ข.	[ค.]
ฅ V	จ U	ง V

11 2

22 4

33 6

?? ?

27. ตัวเลขที่หายไปคือข้อใด

ก.	ข.	[ค.]
46 8	88 4	44 8

28. ธงชาติไทย และ แม่สี มีสีใดที่ตรงกัน

[ก.]	ข.	ค.
แดง น้ำเงิน	เหลือง แดง	ขาว น้ำเงิน

29. รถไฟ เรือเมล์ ลิเก ตำรวจ คำว่า “เรือเมล์” หมายถึงอะไร

[ก.]

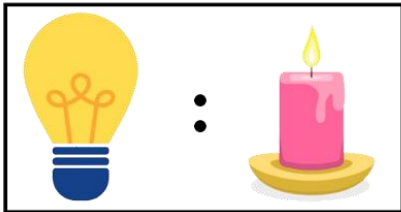
เรือโดยสาร

ข.

เรือใบ

ค.

เรือของเมล์



30. จากความสัมพันธ์ของภาพ ข้อใดคือภาพที่หายไป

ก.



[ข.]



ค.

