

แบบฝึกหัดเตรียมสอบเข้า ป. 1



โรงเรียนสาธิต และ โรงเรียนชั้นนำทั่วประเทศ






เซาว์นั้ปัญญญา ชุ่ดที่ 1




Download ได้ฟรี! ที่ satit.club

1. รูปใดมีความสัมพันธ์กับภาพที่กำหนดให้

	4
	3




ก. 	ข. 	ค. 
---	---	---

2. ภาพใดแตกต่างจากพวก

ก. 	ข. 	ค. 
--	--	--

3. จงหารูปภาพถัดไป




ก. 	ข. 	ค. 
---	---	---

4. ..., 2, 4, 6, ..., 10 จงหาตัวเลขที่หายไป


ก. 1, 8	ข. 0, 7	ค. 0, 8
------------	------------	------------

5. จงเลือกหมวดหมู่ของภาพที่กำหนดให้



ก. สัตว์เลี้ยง	ข. สัตว์เลี้ยง	ค. สัตว์
-------------------	-------------------	-------------

6. จงเลือกรูปภาพที่หายไป



ก. 	ข. 	ค.
--------	--------	--------

7. ข้อใดสัมพันธ์กับภาพที่กำหนดให้

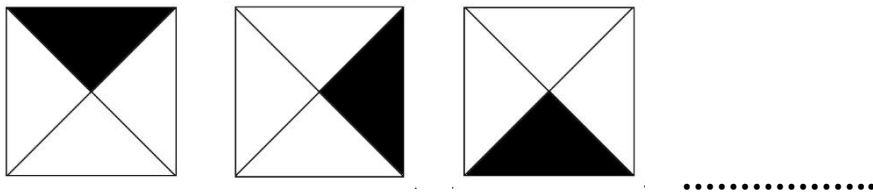





ก. 	ข. 	ค.
--------	--------	--------

8. ภาพใดเกิดขึ้นหลังสุด

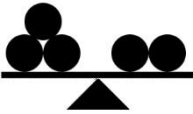
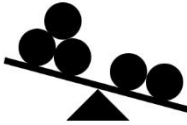

ก. 	ข. 	ค.
--------	--------	--------

9. จงเลือกรูปที่สัมพันธ์กัน






ก. 	ข. 	ค. 
---	---	---

10. ข้อใดถูกต้อง

ก. 	ข. 	ค. 
--	--	---

11. ภาพใดมีทิศทางตรงกันข้ามกับภาพที่กำหนดให้

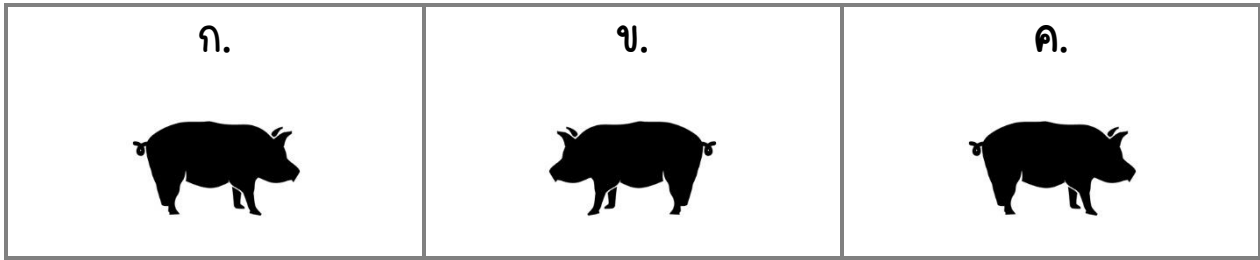


ก. 	ข. 	ค. 
---	---	---

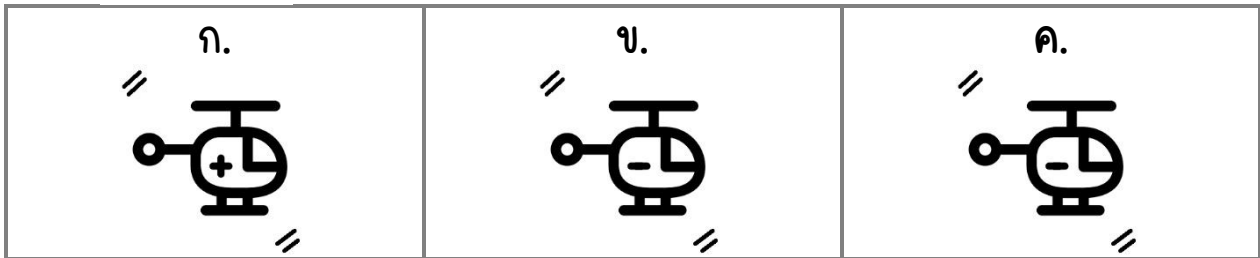
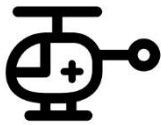
12. กระจต่ายวิ่งเร็วกว่าเต่า แต่วิ่งช้ากว่าแมว ลีลาวัตวิ่งเร็วที่สุด

ก. กระจต่าย	ข. เต่า	ค. แมว
----------------	------------	-----------

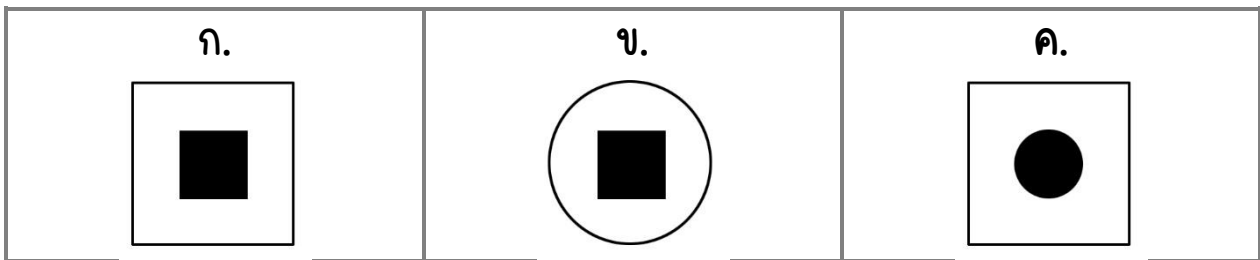
13. ข้อใดมีทิศทางแตกต่างจากภาพอื่น




14. ข้อใดเป็นภาพเดียวกันกับภาพที่กำหนดให้



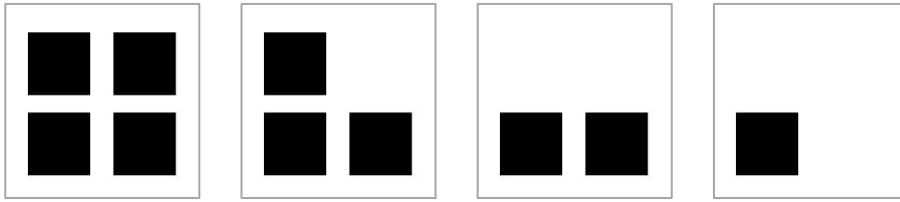
15. สีเหลี่ยมอยู่ในวงกลมคือภาพใด



16. ข้อใดแตกต่างจากภาพอื่น




17. จากภาพข้อใดถูกต้อง



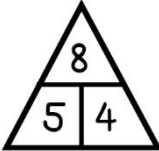
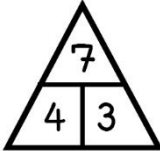
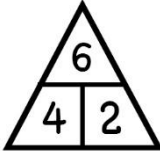
ก. ลดลงครั้งละ 1	ข. เพิ่มขึ้นครั้งละ 1	ค. เรียงจากน้อยไปหามาก
---------------------	--------------------------	---------------------------

18. จงเรียงลำดับการเทน้ำใส่แก้ว


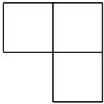
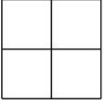


ก. 2 1 3 4	ข. 1 3 2 4	ค. 3 1 2 4
---------------	---------------	---------------

19. ข้อใดไม่เข้าพวก

ก. 	ข. 	ค. 
---	---	---

20. ลีเหลี่ยมจัตุรัสในข้อใดมีจำนวนมากที่สุด


ก. 	ข. 	ค. 
---	---	---




21. คำตอบในข้อใดถูกต้อง

$\square + \square = 8$	$\triangle + \square = ?$
$\triangle + \triangle = 6$	

ก. 6	ข. 7	ค. 8
---------	---------	---------

22. จงเลือกภาพที่สัมพันธ์กับรูปในตาราง และต้องไม่ซ้ำกันในแถว ทั้งแนวตั้งและแนวนอน



ก. 	ข. 	ค. 
---	---	---

23. 1 2 3 4 1 2 ... 4 1 2 3 ... จงหาตัวเลขที่หายไป

ก. 2, 3	ข. 1, 4	ค. 3, 4
------------	------------	------------

24. A A B B C C A A C จงหาตัวอักษรที่หายไป

ก. C C A	ข. A A B	ค. B B C
-------------	-------------	-------------

25. จงหาความสัมพันธ์ของภาพ






:






:

?




ก. 	ข. 	ค. 
---	---	---

26. จงเลือกรูปที่เกิดขึ้นก่อน

ก. 	ข. 	ค. 
--	--	--

27. ข้อใดเหมือนกับภาพที่กำหนดให้



ก. 	ข. 	ค. 
---	---	---

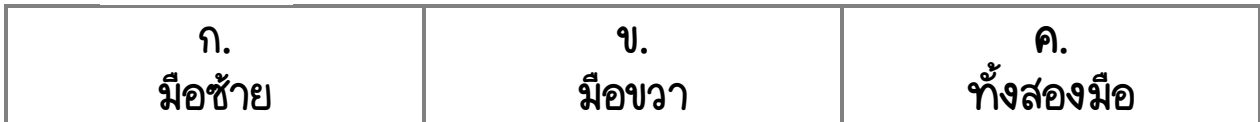
28. ข้อใดมีค่ามากกว่า 9 แต่น้อยกว่า 12

ก. 8	ข. 10	ค. 13
---------	----------	----------


29. ข้อใดมีขนาดกว้างที่สุด



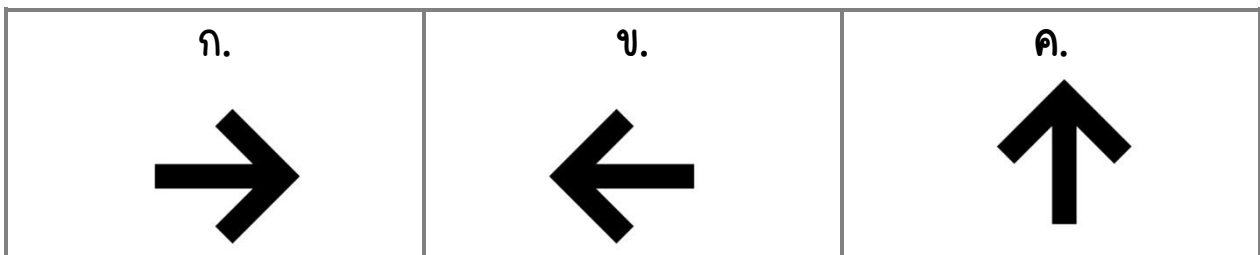
30. เด็กผู้หญิงถึงถือหนังสือมือใด




31. เทียนเล่มใดถูกจุดขึ้นก่อน



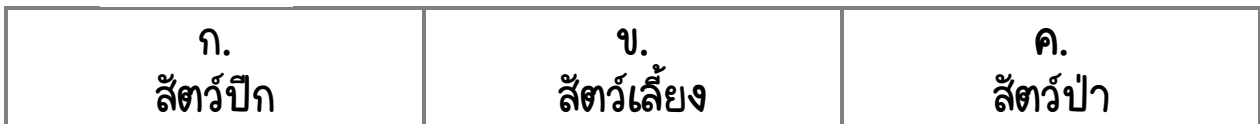
32. ลมพัดไปในทิศทางใด



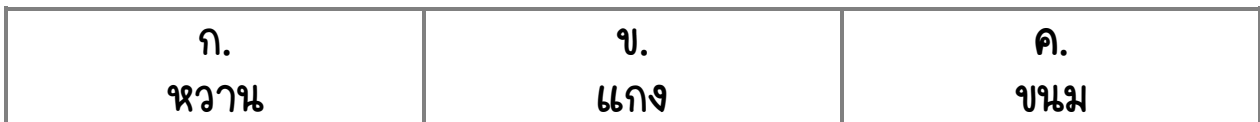
33. ภาพในข้อใดเมื่อพับครึ่งแล้วไม่สมมาตรกัน



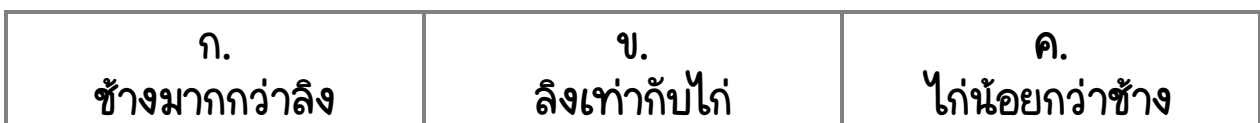

34. จากภาพจัดอยู่ในหมวดหมู่ใด




35. จากภาพไม่สัมพันธ์กับข้อใด



36. จากภาพข้อใดถูกต้อง



37. ข้อใดแตกต่างจากข้ออื่น



38. ระยะทางระหว่างบ้านกับต้นไม้ห่างกัน 5 เมตร
ถ้าเดินทางจากบ้านไปยังต้นไม้ไป-กลับ ต้องเดินเป็นระยะกี่เมตร




ก. 5 เมตร	ข. 10 เมตร	ค. 15 เมตร
--------------	---------------	---------------

39. ข้อใดเป็นเงาของภาพที่กำหนดให้






40. ข้อใดไม่ใช่สัตว์น้ำ



41. สัตว์ตัวใดเป็นเจ้าของรอยเท้าที่กำหนดให้



ก. 	ข. 	ค. 
---	---	---

42. ข้อใดไม่เข้าพวก




ก. 	ข. 	ค. 
--	---	--

43. ข้อใดคือเกณฑ์ในการแบ่งกลุ่มภาพที่กำหนดให้

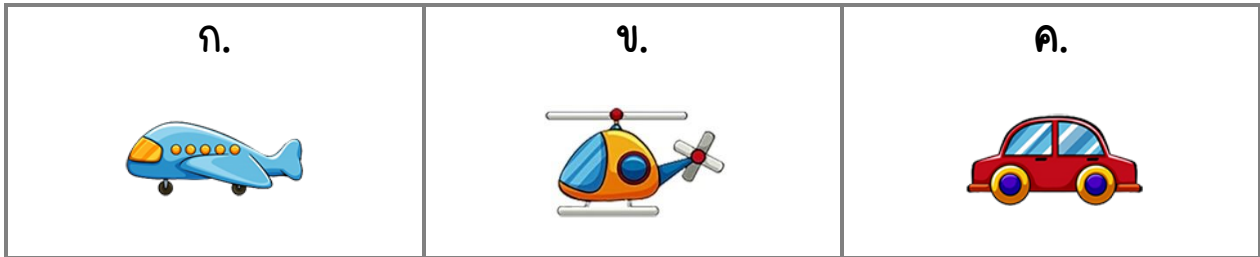


ก. รูปทรง	ข. สี	ค. ขนาด
--------------	----------	------------


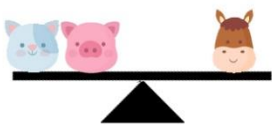
44. หน้อยมีปลา 6 ตัว มีปู 3 ตัว หน้อยต้องซื้อปูมาเพิ่มอีกกี่ตัว จึงจะมีจำนวนเท่ากับปลา

ก. 	ข. 	ค. 
---	---	---

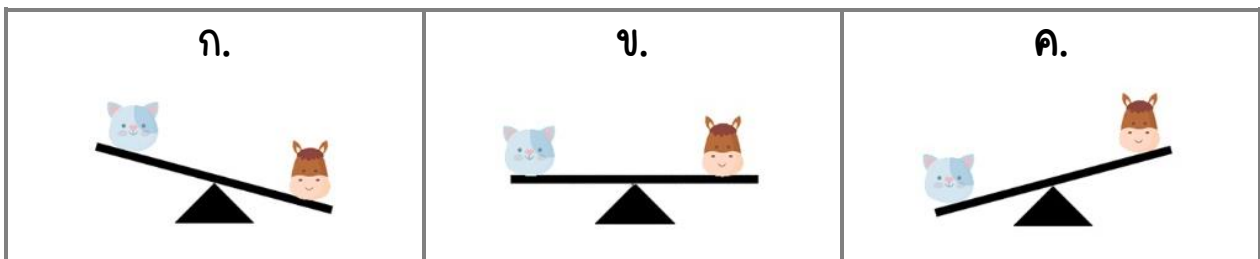
45. ยานพาหนะใดมีคนได้มากที่สุด



46. จากภาพสัตว์ตัวใดหนักที่สุด



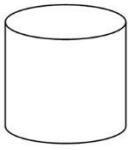
47. จากข้อที่ 46 ถ้าเอาหมูออก ข้อใดถูกต้อง






48. ข้อใดไม่เข้าพวก






49. ข้อใดคือภาพที่มองจากด้านบน






ก. 	ข. 	ค. 
---	---	---

50. ข้อใดมีรูปร่างเหมือนกับภาพที่กำหนดให้



ก. 	ข. 	ค. 
---	---	---

51. ข้อใดแตกต่างจากข้ออื่น

ก. 	ข. 	ค. 
---	---	---

52. จงหาตัวอักษรที่หายไป

A B C D E B C D E C D E E

ก. B C	ข. D E	ค. D A
-----------	-----------	-----------

53. ข้อใดถูกต้อง






ก. 	ข. 	ค. 
---	---	---

54. ข้อใดตรงกันข้ามกับภาพที่กำหนดให้



ก. 	ข. 	ค. 
---	---	---

55. ภาพในข้อใดเป็นภาพสมมาตร

ก. 	ข. 	ค. 
---	---	---

56. น้ำ : แก้ว ข้าว : ?

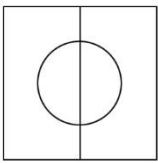
ก. ช้อน	ข. ตะเกียบ	ค. จาน
------------	---------------	-----------

57. จากภาพมีผู้ชายกี่คน



ก. 2 คน	ข. 3 คน	ค. 5 คน
------------	------------	------------

58. จากภาพเมื่อพับกระดาษ จะได้ภาพในข้อใด



ก. 	ข. 	ค.
--------	--------	--------

59. สุนัข 8 ขา ไก่ 4 ขา ข้อใดถูกต้อง

ก. 	ข. 	ค.
--------	--------	--------

60. ภาพใดไม่เข้าพวก

ก. 	ข. 	ค.
--------	--------	--------

เฉลย

1	2	3	4	5	6	7	8	9	10
บ	บ	ก	ค	ค	บ	ค	บ	ค	ค

11	12	13	14	15	16	17	18	19	20
ค	ค	บ	ก	บ	บ	ก	ค	ก	ค

21	22	23	24	25	26	27	28	29	30
บ	ก	ค	ค	บ	บ	ค	บ	บ	บ

31	32	33	34	35	36	37	38	39	40
ก	ก	บ	ค	บ	ค	ก	บ	ค	ค

41	42	43	44	45	46	47	48	49	50
บ	ก	ค	ค	ก	บ	ก	ค	ค	ก

51	52	53	54	55	56	57	58	59	60
ก	บ	ค	ก	ก	ค	ก	ก	ค	บ