

แบบฝึกหัดเตรียมสอบเข้า ป. 1

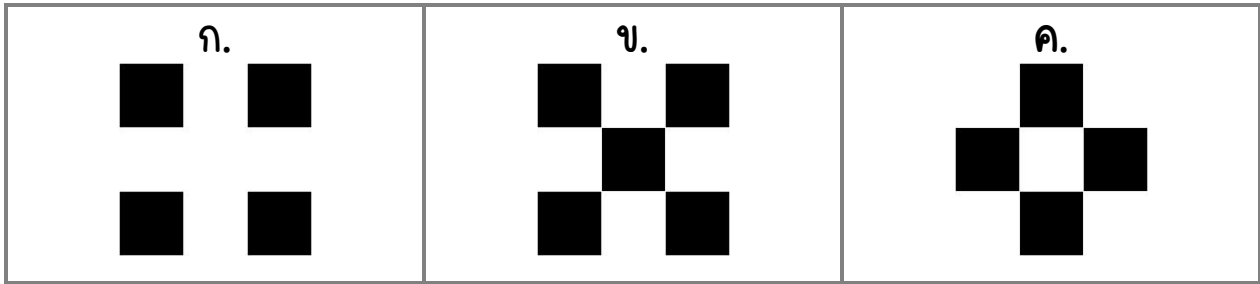
โรงเรียนสาธิต และ โรงเรียนชั้นนำทั่วประเทศ




คณิตศาสตร์ ชุดที่ 1

Download ได้ฟรี! ที่ satit.club

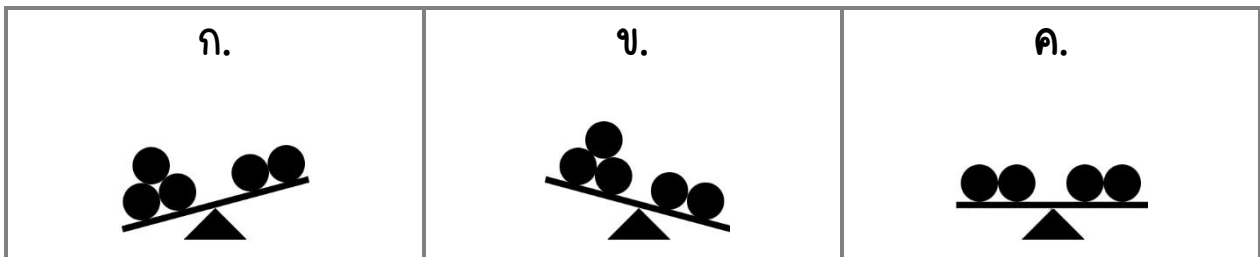
1. ข้อใดมีจำนวนมากที่สุด



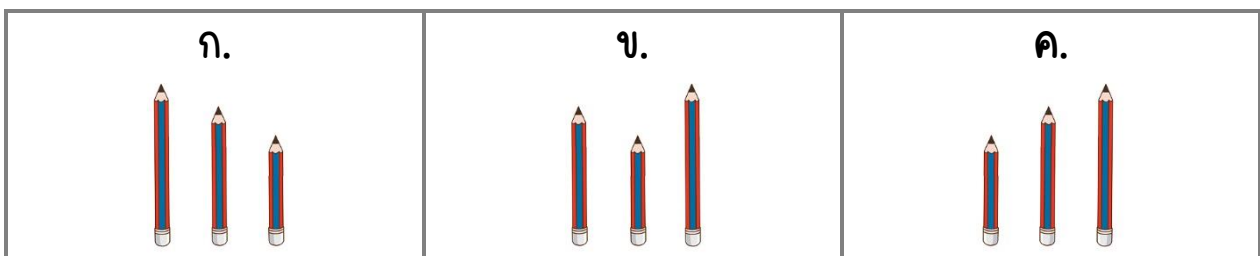
2. ข้อใดมีจำนวนน้อยที่สุด



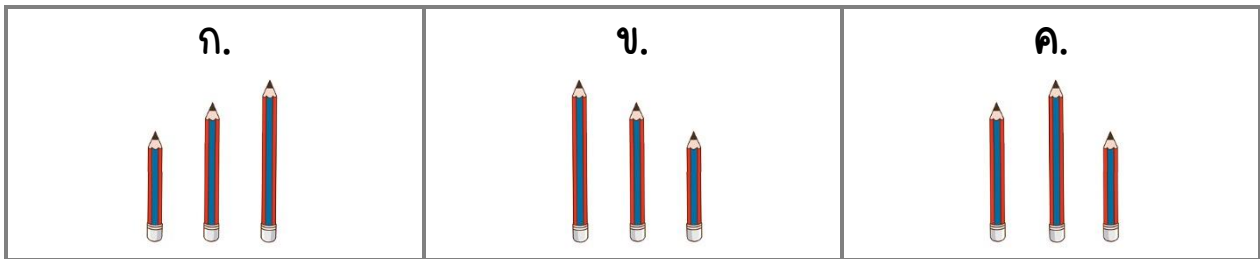
3. ข้อใดหนักเท่ากัน




4. ข้อใดเรียงลำดับจากต่ำที่สุดไปสูงที่สุดได้ถูกต้อง




5. ข้อใดเรียงลำดับจากสูงที่สุดไปต่ำที่สุดได้ถูกต้อง




6. ข้อใดมีจำนวนเท่ากับ 4



7. ข้อใดเป็นจำนวนคู่






8. ข้อใดเป็นเลขคี่






9. ข้อใดตรงกับจำนวนภาพที่กำหนดให้






ก. 	ข. 	ค. 
---	---	---




10. ข้อใดมีค่ามากกว่า 3

ก. 	ข. 	ค. 
---	--	--

11. ข้อใดมีค่าน้อยกว่า 4

ก. 	ข. 	ค. 
---	---	---

12. ข้อใดมีค่าเท่ากัน

ก. 	ข. 	ค. 
---	---	---




13. ข้อใดเป็นจำนวนเงินที่กำหนดให้



ก. 12	ข. 20	ค. 15
----------	----------	----------

14. ข้อใดตรงกับเวลาที่กำหนดให้






ก. 	ข. 	ค. 
--	--	--

15. ข้อใดถูกต้อง

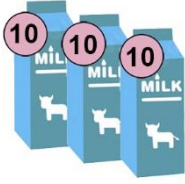
ก. $22 + 7 = 28$	ข. $46 + 4 = 49$	ค. $33 + 7 = 40$
---------------------	---------------------	---------------------

16. ข้อใดมีรูปร่างเหมือนภาพที่กำหนดให้



ก. 	ข. 	ค. 
---	---	---

17. นมราคากล่องละ 10 บาท ซื้อนม 3 กล่อง เป็นราคากี่บาท



ก. 20 บาท	ข. 30 บาท	ค. 40 บาท
--------------	--------------	--------------

18. เด็ก 3 คนหนักกว่าผู้ใหญ่ 1 คน ข้อใดถูกต้อง

ก. 	ข. 	ค.
--------	--------	--------

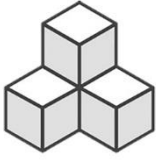
19. เลือกภาพคนที่สูงที่สุด

ก. 	ข. 	ค.
--------	--------	--------

20. เลือกภาพคนที่ต่ำที่สุด

ก. 	ข. 	ค.
--------	--------	--------

21. จากภาพมีกล่องอยู่ทั้งหมดกี่ใบ




ก. 3 ใบ	ข. 4 ใบ	ค. 5 ใบ
------------	------------	------------

22. จากภาพข้อใดถูกต้อง




ก. ดาวสีขาวมากกว่าดาวสีดำ	ข. ดาวสีดำมากกว่าดาวสีขาว	ค. ดาวสีขาวเท่ากับดาวสีดำ
------------------------------	------------------------------	------------------------------

23. ข้อใดถูกต้อง



ก. 7	ข. 8	ค. 9
---------	---------	---------

24. ข้อใดถูกต้อง






ก. 4	ข. 3	ค. 5
---------	---------	---------

25. ข้อใดมีค่ามากกว่า 7




ก. 	ข. 	ค. 
---	---	---

26. ข้อใดไม่ใช่คำตอบของ 10 - 5




ก. 	ข. 	ค. 
---	---	---

27. ด้านตรงกันข้ามของลูกเต๋ารวมกันได้ 7 ด้านตรงข้ามลูกเต๋าที่กำหนดคือ



ก. 	ข. 	ค. 
---	---	---

28. ข้อใดน่าจะมีน้ำหนัมากที่สุด

ก. 	ข. 	ค. 
---	---	---

29. 2, 4, 6, ..., 10, 12 ตัวเลขที่หายไปคือข้อใด

ก. 7	ข. 8	ค. 9
---------	---------	---------

30. เงินเหรียญ 2 บาท จำนวน 4 เหรียญ รวมกันเป็นจำนวนเงินกี่บาท



ก. 7 บาท	ข. 8 บาท	ค. 9 บาท
-------------	-------------	-------------

31. 5, 10, ..., 20 ตัวเลขที่หายไปคือข้อใด


ก. 12	ข. 15	ค. 17
----------	----------	----------

32. เก้เก็บเงินที่เหลือจากการไปโรงเรียนวันละ 5 บาท
เมื่อครบ 3 วัน เก้เก็บเงินได้กี่บาท



ก. 15 บาท	ข. 17 บาท	ค. 12 บาท
--------------	--------------	--------------

33. ครูมีดินสอ 10 แท่ง แบ่งให้นักเรียนคนละ 2 แท่ง นักเรียนห้องนี้มีกี่คน



ก. 4	ข. 6	ค. 5
---------	---------	---------

34. มีนกเกาะอยู่บนกิ่งไม้ 16 ตัว บินไป 5 ตัว เหลือนกอยู่ที่ตัว

ก. 10 ตัว	ข. 12 ตัว	ค. 11 ตัว
--------------	--------------	--------------

35. เลี้ยงไก่ไว้ 9 ตัว ออกลูกมา 5 ตัว มีไก่ทั้งหมดกี่ตัว

ก. 14 ตัว	ข. 13 ตัว	ค. 15 ตัว
--------------	--------------	--------------

36. ในห้องเรียนมีนักเรียนทั้งหมด 15 คน เป็นนักเรียนชาย 9 คน มีนักเรียนหญิงกี่คน

ก. 5 คน	ข. 4 คน	ค. 6 คน
------------	------------	------------

37. ครึ่งหนึ่งของ 12 คือข้อใด

ก. 5	ข. 6	ค. 7
---------	---------	---------




38. ลูกโป่ง 2 ใบ ราคา 10 บาท ใบแรกราคา 6 บาท ใบที่สองราคากี่บาท






ก. 8 บาท	ข. 4 บาท	ค. 6 บาท
-------------	-------------	-------------

39. ไอศกรีมราคา 5 บาท เงินในข้อใดซื้อไอศกรีมไม่ได้



ก. 	ข. 	ค. 
--	--	--

40. ไอศกรีมในข้อใดมีราคาแพงที่สุด

ก. 	ข. 	ค. 
---	---	---

41. ผลบวกของ $8 + 1$ เท่ากับผลบวกของข้อใด

ก. $6 + 2$	ข. $4 + 5$	ค. $5 + 3$
---------------	---------------	---------------

42. ข้อใดถูกต้อง

ก. $9 - 9 = 9$	ข. $9 + 9 = 9$	ค. $9 - 9 = 0$
-------------------	-------------------	-------------------




43. $7 + \dots = 14$ ข้อใดถูกต้อง

ก. 8	ข. 7	ค. 6
---------	---------	---------




44. $\dots + 5 = 15$ ข้อใดถูกต้อง

ก. 9	ข. 11	ค. 10
---------	----------	----------

45. จากประโยคสัญลักษณ์ $6 - 4 = ?$ ตรงกับจำนวนในข้อใด

ก. 	ข. 	ค. 
---	---	---

46. แก้วใใดมีน้ำมากที่สุด

ก. 	ข. 	ค. 
---	---	---

47. ข้อใดกล่าวถูกต้อง



ก. เป็นการนับลดทีละ 2	ข. เป็นการนับเพิ่มทีละ 2	ค. เป็นการนับเพิ่มทีละ 3
--------------------------	-----------------------------	-----------------------------

48. ลูกหมู 3 ตัวมีขารวมกันกี่ขา






ก. 8 ขา	ข. 10 ขา	ค. 12 ขา
------------	-------------	-------------

49. คุณแม่ไปธนาคาร ออกมา 1,000 บาท

ก. รับเงิน	ข. ฝากเงิน	ค. ถอนเงิน
---------------	---------------	---------------

50. มานะมีเงิน 10 บาท ต้องการซื้อขนมราคา 20 บาท
มานะต้องหาเงินมาเพิ่มอีกกี่บาท

ก. 	ข. 	ค. 
---	---	---

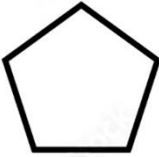
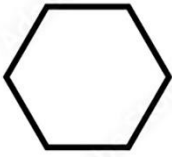

51. เขียนตัวเลขและแทนจำนวนได้อย่างไร



ก. $6 + 2 = \dots$	ข. $4 + 6 = \dots$	ค. $5 + 4 = \dots$
-----------------------	-----------------------	-----------------------

52. ข้อใดสัมพันธ์กับตัวเลขที่กำหนดให้




6

ก. 	ข. 	ค. 
--	--	--

53. ข้อใดเป็นการเรียงลำดับตัวเลขจากมากที่สุดไปหาน้อยที่สุด

ก. 0 6 9	ข. 7 3 5	ค. 7 5 3
-------------	-------------	-------------

54. จำนวนที่มีค่ามากกว่า 5 แต่น้อยกว่า 8 คือข้อใด

ก. 	ข. 	ค. 
---	---	---

55. เก่มีอายุ 12 ปี ก้อยมีอายุมากกว่าเก่ 2 ปี ก้อยมีอายุเท่าไร

ก. 10 ปี	ข. 12 ปี	ค. 14 ปี
-------------	-------------	-------------

56. ข้อใดหมายถึง 10 มีค่าน้อยกว่า 12

ก. $10 < 12$	ข. $10 > 12$	ค. $12 < 10$
-----------------	-----------------	-----------------

57. ข้อใดเกี่ยวข้องกับภารกิจ

ก. เอหนักกว่าปี	ข. เอสูงกว่าปี	ค. เออ้วนกว่าปี
--------------------	-------------------	--------------------

58. ข้อใดทำให้จำนวนปลาที่เลี้ยงไว้เพิ่มขึ้น

ก. ให้เพื่อนไป 2 ตัว	ข. ออกลูกมา 3 ตัว	ค. โตขึ้นทุกตัว
-------------------------	----------------------	--------------------

59. หมู 2 ตัว ไก่ 2 ตัว มีขาารวมกันทั้งหมดกี่ขา

ก. 12 ขา	ข. 8 ขา	ค. 10 ขา
-------------	------------	-------------

60. มีผลไม้ทั้งหมด 20 ผล เป็นเงาะ 7 ผล ฝรั่ง 8 ผล จะเป็นส้มกี่ผล

ก. 10 ผล	ข. 5 ผล	ค. 7 ผล
-------------	------------	------------

เฉลย

1	2	3	4	5	6	7	8	9	10
ข	ก	ค	ค	ข	ค	ค	ก	ข	ค

11	12	13	14	15	16	17	18	19	20
ค	ก	ข	ข	ค	ข	ข	ก	ข	ค

21	22	23	24	25	26	27	28	29	30
ข	ข	ค	ข	ค	ค	ข	ค	ข	ข

31	32	33	34	35	36	37	38	39	40
ข	ก	ค	ค	ก	ค	ข	ข	ก	ค

41	42	43	44	45	46	47	48	49	50
ข	ค	ข	ค	ข	ค	ข	ค	ค	ข

51	52	53	54	55	56	57	58	59	60
ค	ข	ค	ก	ค	ก	ก	ข	ก	ข